

Задания для обучающихся.
Время выполнения - 60 мин.
Максимальный балл - 100

Задание 1. Верны ли следующие утверждения? («Да» - «Нет»).

Ответы внесите в таблицу. За каждый правильный ответ – 2 балла, максимальный балл за задание – 16.

1. Железо было первым металлом, из которого люди стали изготавливать орудия труда.
2. Австралопитек был обнаружен на территории Юго-Восточной Африки.
3. Изучением и восстановлением физического облика древних людей занимается антропология.
4. Первым одомашненным животным стала лошадь.
5. Первого человека учёные называют – «человек разумный».
6. Мамонты являются древними обитателями Сибири.
7. Первыми в истории человечества определили продолжительность года (365 суток) жители Древней Индии.
8. Люди перешли к производящему хозяйству в период неолита.

1	2	3	4	5	6	7	8
нет	да	да	нет	нет	да	да	да

Задание 2. Тестовые задания.

За каждый правильный ответ – 2 балла, максимальный балл за задание – 10.

2.1. Определите дату окончания истории Древнего мира и начала истории Средних веков:

- А) 410 г.
 Б) 395 г.
 В) 476 г.

2.2. Когда происходило Великое переселение народов?

- А) IV-VII в.в.
 Б) III-IV в.в.
 В) I-II в.в.

2.3. Назовите транспортное средство бога Амона в Египте:

- А) сани; Б) лодка;
 В) повозка.

2.4. В какой стране впервые начали чеканить золотую монету?

- А) Финикия;
 Б) Мидия;
 В) Лидия.


2.5. Какие звуки не передавались на письме египтянами?

- А) согласные;
Б) гласные;
В) нет правильного ответа

Задание 3. За каждый правильный ответ – 2 балла, максимальный балл за задание – 14.

На контурной карте Египта:

1. надпишите название реки, до которой доходили границы Египетского царства на севере в середине II тысячелетия до н.э.;
2. рядом с цифрами надпишите название стран или регионов, завоеванных фараонами за пределами Египта (Финикия, Нубия, Сирия, Палестина). Например: 2 – Синайский полуостров;
3. надпишите название морей, омывавших Египет.



Задание 4. За каждый правильный ответ – 2 балла, максимальный балл за задание – 8.

Установи соответствие между понятиями и их определениями.

1.	миф	А	наука, изучающая вещественные памятники истории
2.	жрецы	Б	сказание о богах
3.	мотыга	В	служители бога
4.	археология	Г	палка с сучком для занятия земледелием

Соответствующие буквы ответов внеси в таблицу.

1	2	3	4
А	Г	В	Б

Задание 5. В каждой строке выберите слово лишнее по смыслу, объясните почему. За каждый правильный ответ - 2 балла. Максимальный балл за задание – 6.

1.	Брахман	Шудры	Фараон	Неприкасаемые
2.	Нил	Тигр	Ганг	Вавилон
3.	Соломон	Шамаш	Анубис	Иштар

1. Фараон
 2. Вавилон
 3. Соломон

Задание 6. Вставьте пропущенные слова.

За каждый правильный ответ - 3 балла. Максимальный балл за задание – 21.

Археологам попался камень с надписью, часть которой была стерта. Прочитайте текст и впишите в таблицу недостающие слова

«Я - Синахериб, великий царь, могучий царь, царь 1) _____, царь всего света, премудрый, послушный великим 2) _____, любящий справедливость, творящий 3) _____, испепеляющий врагов. Я нанес поражение царю 4) _____. Посреди битвы покинул он свой лагерь, умчался один и спас свою 5) _____. В его дворец с ликованием я вошёл. Я отворил его сокровищницу. Золотую и Серебряную 6) _____, драгоценные камни, все, что там было, я забрал как добычу. 200 тыс. человек мужчин и женщин, коней, ослов и верблюдов, крупный и мелкий скот без числа я угнал в 7) _____. Не покорных я оружием побил, трупы их завесил на кольях, которые вокруг города велел поставить»

- | | |
|------------|-----------|
| А) красота | Ж) дочь |
| Б) Египет | З) боги |
| В) Ассирия | И) фараон |
| Г) монета | К) жизнь |
| Д) Вавилон | Л) добро |
| Д) зло | М) утварь |

1	2	3	4	5	6	7

Задание 7. Поработайте с датой .

05

За правильный ответ - 1 балл. Максимальный балл за задание - 1.

Используя ленту времени, ответьте на вопрос: Сколько лет прошло с момента захвата Вавилона персами до 2023 года? Ответ запишите цифрами

Задание 8. Работа с иллюстрациями.

За каждый правильный ответ - 4 балла. Максимальный балл за задание - 24.

8.1. Перед вами плакат времен Великой Отечественной войны.

Какие исторические деятели представлены на плакате?

Ответ: _____

05



Итого: 28 баллов
 Искренне: Мешков
 Анискин
 Падурин

**ВСЕРОССИЙСКАЯ ОЛИМПИАДА ШКОЛЬНИКОВ
ПО ИСТОРИИ. 2023–2024 ГОД
ШКОЛЬНЫЙ ЭТАП. 7 КЛАСС**

В заданиях 1–3 дайте один верный ответ. Ответ внесите в таблицу.

1

Прочтите отрывок из договора, изложенного в «Истории государства Российского» Н.М. Карамзина. Определите, в правление какого князя данный договор был заключен.

«Мы от роду русского, Карл Ингелот, Фарлов, Веремид... посланные..., великим князем русским и всеми сущими под рукою его, светлыми боярами, к вам, Льву, Александру и Константину, великим царям греческим, на удержание и на извещение от многих лет бывшие любви между христианами и Русью...»

- 1) Владимир Святославович
- 2) Олег Вещий
- 3) Игорь Старый
- 4) Святослав Игоревич

2

Как называется документ, отрывок из которого представлен ниже?

«Убьет муж мужа, то мстит брат за брата, или сын за отца, или сын брата или сын сестры; если не будет кто мстить, то 40 гривен за убитого. Если убитый – русин, или гридин, или купец, или ябедник, или мечник, или же изгой, или словенин, то 40 гривен уплатить за него...»

- 1) «Русская Правда»
- 2) «Домострой»
- 3) «Изборник» Святослава
- 4) Судебник 1497г.

3

Прочитайте отрывок из описания историком одного из городов Древней Руси и укажите данный город:

«Сей северорусский город имел развитую торговлю с Ганзой, в нём имелись специально построенные гостиные двory для немецких и скандинавских купцов... Не раз город подвергался угрозе захвата, однако, даже полчища Батя не решились осадить его...»

- 1) Вятка
- 2) Торжок
- 3) Новгород
- 4) Ярославль

1	2	3
2	1	3

В заданиях 4–6 выберите несколько верных ответов из предложенных. Ответы внесите в таблицу.

4

Какие из представленных ниже славянских племён жили на левом берегу р. Днепр?

- 1) Волыняне
- 2) Вятичи
- 3) Древляне
- 4) Дреговичи
- 5) Северяне
- 6) Радимичи

5

Какие из представленных ниже правителей Древнерусского государства приняли христианство?

- 1) Олег Вещий
- 2) Игорь Старый
- 3) Ольга Мудрая
- 4) Святослав Игоревич
- 5) Владимир Святославич
- 6) Ярослав Владимирович

6

Какие из представленных государственных образований были разорены Батыем в результате похода 1237–1238 гг.

- 1) Волынское княжество
- 2) Галицкое княжество
- 3) Владимиро-Суздальское княжество
- 4) Рязанское княжество
- 5) Киевское княжество
- 6) Смоленское княжество

4	5	6
5 6	3 5 6	3 4

65.

7

В приведенном ниже перечне представлены реформы, осуществленные различными правителями Руси. Сгруппируйте данные реформы, назвав правителей и записав номера проведенных ими преобразований в таблицу.

1. Учреждение погостов
2. Попытка создания единого пантеона языческих богов
3. Принятие христианства на Руси
4. Строительство укрепленных городков против печенегов в левобережье Днепра
5. Законодательное введение виры
6. Избрание первого митрополита из русичей

об.

Правитель			
Реформа			

8

По какому принципу образованы ряды? Дайте максимально точный ответ.

1. 1224 г., 1240 г., 1242 г., 1268 г.
2. Скать, зернь, филигрань, позолота

Ответ:

об.

1. Даты немецкой-северской ярмарки XIII в.
2. Ювелирная обработка из Руси

9

Дайте краткое обоснование ряда – с какими событиями связаны приведенные годы и назовите, какой из них является лишним:

1. 907 г., 941 г., 944 г., 948 г.
2. 1223 г., 1237–1238 гг., 1240–1241 гг., 1245–1246 гг.

Ответ:

об.

10

Расположите в хронологической последовательности:

- А) Венчание на царствование Ивана IV
- Б) Судебник Ивана III
- В) Стояние на реке Угре
- Г) Присоединение Новгорода к Москве
- Д) Начало Ливонской войны
- Е) Начало правления Василия III

05
 Ответ:

Д Б Е Г А В

11

Дайте объяснение наукам, которые помогают изучать историю?

08.

Науки	Объяснение
Топонимика	
Геральдика	
Сфрагистика	
Генеалогия	

12

О каком событии говорится в стихотворении?

Кто такой Дмитрий? Чье благословение получил Дмитрий?

И у толпы, притихшей на глазах
 Встал Дмитрий пред игуменом на
 колени

И получил его благословенье:

-Иди!

Да не коснется сердца страх!




Ты вернешься скоро! ...

И двух богатырей измерил взором:

-Вот иноки – сподвижники тебе.

45.
 Кушневская Библе

Рассмотрите изображения вывесок в средневековом городе и выполните задания.



1. Назовите профессии людей, вывески чьих мастерских или лавок здесь изображены.
2. Укажите общее название организаций, в которые объединялись средневековые ремесленники.
3. Назовите уровни иерархической структуры в этих организациях.

6 балл.
 Ответ:

1	2	3
сапожники, пекарь	-	мастера

и толо: 22 балла

Июри: Шмид
 Асир
 Рагиф

КОД

ИСО815

Школьный этап Всероссийской олимпиады по истории 2023-2024 год.
8 класс

Время выполнения – 90 минут
Максимальная оценка – 48 баллов

Задание № 1 (2 балла)

Укажите дату описанных событий в стихотворении «В глухие дни» К.Д. Бальмонта?

25
« В глухие дни Бориса Годунова,
Во мгле Российской пасмурной страны,
Толпы людей скитались без крова
И по ночам всходило две луны.
Два солнца по утрам светило с неба,
С свирепостью на дальний мир смотря,
И вопль протяжный: «Хлеба! Хлеба, Хлеба!»
Из темноты лесов стремился до царя»

- А) 1598 – 1612 гг. В) 1601 – 1603 гг.
Б) 1598 – 1605 гг. Г) 1605 – 1606 гг.

Задание №2 (2 бала)

25
Представители, какого знатного рода в годы правления Елены Глинской отстаивали былые княжеские и боярские вольности, ратовали за войну с Литвой?

- А) Бельские В) Долгорукие
Б) Шуйские Г) Шереметьевы

Задание № 3 (3 балла)

Чем характеризовалось хозяйство в России в 1620-30-х гг.? Выберите три положения

- 95.
- А) осваивались новые земли
 - Б) произошло возвращение к подсечно-огневой системе земледелия
 - В) росла урожайность
 - Г) распространялся трехпольный севооборот
 - Д) стали применяться химические удобрения

Задание № 4 (2 балла)

Кем провозгласил себя Иван Болотников?

- 25.
- А) воеводой царя Дмитрия Ивановича
 - Б) Лжедмитрием
 - В) тайным сыном Ивана Грозного Иваном Ивановичем
 - Г) чудом спасшимся царевичем Дмитрием

Задание № 5 (6 баллов)

08.

Существует точка зрения, что положение крестьянства в XVII веке в России было наихудшим в сравнении с положением других сословий. Приведите не менее двух аргументов, подтверждающих данную точку зрения

Задание № 6 (2 балла)

В чем заключалась политика меркантилизма?

- 20.
- А) развитие в стране сырьевых отраслей хозяйства
 - Б) всемерная экономия ресурсов в стране
 - В) положительный баланс внешней торговли
 - Г) защита таможенными пошлинами отечественного товаропроизводителя

КОД

ИС 0815

Задание №7 (3 балла)

**Какие наказания за пьянство были приняты при М.Ф. Романове?
Выберите три положения**

- 38.
- А) смертная казнь
 - Б) большие штрафы
 - В) наказание кнутом
 - Г) спаивание виновных до смерти
 - Д) бражная тюрьма

Задание № 8 (2 балла)

Что или кто является лишним в ряду?

- 28.
- А- 1) протекционизм 2) меркантилизм 3) мануфактура 4) просвещенный абсолютизм
- Б - 1) Уложенная комиссия 2) Табель о рангах 3) секуляризация 4) просвещенный абсолютизм

Задание № 9 (2 балла)

Известно, что еще в XVIII-XIX веке государственные чиновники собирали (или подавали) сказки. В каком значении использовалось это слово?

- 28.
- А) обещания
 - Б) сведения
 - В) предложения
 - Г) налог

Задание № 10 (2 балла)

Назовите имя царя, о котором идет речь.

28. На престол избран. По избранию гетман литовский сказал: «Ну, мы раздражили Москву; как бы она, поправившись, не заплатила нам и не забрала своего с лихвой». Были примирены враждующие группировки, возвращены некоторые исконно русские земли, налаживалась хозяйственная жизнь. Введена новая государственная печать. В ней к титулу царя было добавлено слово: «самодержец», а над головами двуглавого орла появились короны. Композитор М.И. Глинка написал оперу, получившую название «Жизнь за царя», посвященную описываемой личности.

- А) Борис Годунов В) Михаил Федорович
Б) Иван Васильевич Г) Федор Иванович

Задание № 11 (10 баллов)

О ком идет речь? Выберите правильный ответ из предложенных позиций

1. Он был добр, терпим к мнению других, не отличался крепким здоровьем. При нём Россия возвратила Ивангород, Ям, Копорье, Корелы
2. Он не пожелал принять королевский титул, предложенный императором Священной империи Фридрихом III
3. Он был избран на царство при поддержке патриарха Иова, хотя и не был потомком Рюрика
Он совершил три похода на Литву и заставил сдать Смоленск.
При нём к Москве был присоединён Псков
4. Он объявил войну Ливонскому ордену, в результате которой этот Орден прекратил существовать
5. Он отправил Ивану IV четыре послания с обвинениями в измене православию и притеснению невинных

(Фёдор Иванович, Иван IV, Василий III, Иван III, Борис Годунов, Андрей Курбский)

КОД

ИСО815

Задание № 12. (4 балла)

Дайте краткое обоснование ряда и вычеркните лишнее:

4б.

1. А. Курбский, Б. Годунов, И. Висковатый, М. Воротынский
2. 1648 г., 1654 г., 1662 г., 1670 г.

Дайте мн. Цзб. работ

Буиша


Задание № 13. Да или нет? (4 балла):

1. Борис Годунов был единственным царем из рода Годуновых, правивших на российском престоле **Нет**
2. Впервые полки иноземного строя были созданы накануне русско-польской 1632-1634 гг. **Да**
3. Первая отечественная мануфактура появилась в 1620 г. под Тулой для производства железа и оружия **Нет**
4. Первое высшее учебное заведение – Славяно-греко-латинское училище было открыто в Москве только в 1687 г. по инициативе Сильвестра Медведева **Да**

4б.

Задание № 14 (4 балла)

Перед вами изображения произведений культуры XVII в. и XVIII вв. Определите, какие памятники культуры, относятся к XVII в.



2б.м.

Умно: 26 сценар.

Умно: Мун
Амур
Пары

Всероссийская олимпиада школьников по истории.

Школьный этап 9 класс

2023-2024уч. Год

Максимальный балл - 42

1. Решите тест

1. Царевич Дмитрий, погибший в Угличе в 1591 году был сыном

- А. Ивана Грозного. Б. Федора Ивановича. В. Бориса Годунова.
Г. Царя Ивана, старшего сына Ивана Грозного.

2. Ордынское войско на Куликовом поле возглавлял

- А. Чолхан. Б. Челубей. В. Мамай. Г. Тохтамыш.

3. Первый в России Земский Собор был созван.

- А. В Любече Владимиром Мономахом (1097 г.)

Б. В Москве Иваном Калитой (1325 г.)

- В. В Москве Иваном Грозным (1549 г.)

Г. В Переяславле Богданом Хмельницким (1654 г.)

4. Первым российским императором стал.

- А. Михаил Романов. Б. Василий Голицын. В. Петр Первый. Г. Павел I.

5. "Табель о рангах" - это

- А. Документ, определявший систему чинов в России в XVIII – XIX вв.

Б. Документ, определявший взаимоотношения сената и коллегий в XVIII веке.

В. Список наград, введенный Петром Первым.

6. В XVII веке в России "корм" - это

- А. Жалованье. Б. Доходы, собранные с местного населения. В. Пища.

7. В XVII веке в России черными людьми называли

А. Выходцев из Африки.

- Б. Всех, кто платил налоги.

В. Неимущую прослойку горожан.

8. Благодаря поддержке гвардейских полков в XVIII веке достигли власти

- А. Петр I и Павел I. Б. Иван VI и Миних.

- В. Екатерина I, Елизавета и Екатерина II. Г. Петр II и Петр III.

9. Медаль со словами "Учителю от достойного ученика" была приготовлена

А. А.С. Пушкиным для Г.Р. Державина.

Б. А.В. Суворовым для П.Н. Румянцева.

- В. Петром Первым для Карла XII.

10. Чье имя лишнее в перечне ?

- А. А.В. Суворов. Б. Г.Р. Державин. В. П.Н. Румянцев. Г. А.Г. Потемкин.

11. Инфантерия это:

А. Условие, поставленное Анне Иоановне Верховным Тайным Советом перед коронацией.

- Б. Старинное название пехоты.

В. Орган управления у донских казаков.

12. Е. Пугачев, стоящий во главе крестьянского восстания в 1773 – 1775 годах выдавал себя

- А. За Петра I. Б. За Петра II. В. За Петра III.

13. Попытка законодательного ограничения самодержавия в России была предпринята

А. Боярской Думой при составлении Судебника 1497 года.

Б. Соправителем Ивана Грозного Симеоном Бекбулатовичем в XVI веке.

В. Патриархом Никоном в XVII веке.

- Г. Верховным Тайным Советом, предъявившем Анне Иоановне кондиции.

14. Какой орден в Российской империи был высшим ?

А. Святого Георгия Победоносца.

445

Б. Святого Владимира.
Ⓐ Святого Андрея Первозванного.

Вопрос № 15. Да или нет? (4 балла):

45

- 1. Борис Годунов был единственным царем из рода Годуновых, правивших на российском престоле
- 2. Впервые полки иноземного строя были созданы накануне русско-польской 1632-1634 гг.
- 3. Первая отечественная мануфактура появилась в 1620 г. под Тулой для производства железа и оружия
- 4. Первое высшее учебное заведение – Славяно-греко-латинское училище было открыто в Москве только в 1687 г. по инициативе Сильвестра Медведева

Вопрос № 16. В 2018 г. Было 406-летие освобождения Москвы от польских интервентов в 1612 г. Дайте датировку событий, относящихся к Смутному времени и расположите их в хронологическом порядке (8 баллов):


45

- 1. «осенью польский король Сигизмунд наконец решился на войну... Свое участие в ней он объяснил пребыванием в России шведов, приглашенных царем на подмогу против самозванца...» 1609 г.
- 2. «Самозванец стоял в Путивле, а правительственные войска осаждали Кромы, когда произошло событие, ускорившее, а может, и переломившее ход событий. 13 апреля... от апоплексического удара умер Борис Годунов...» 1605 г.
- 3. «... от неурожая наступил голод. Один год еще можно было как-то прожить впроголодь старыми запасами. Но на следующее лето неурожай повторился. Народ ел траву, сено, трупы животных. Известны стали даже случаи людоедства. Чтобы помочь беде, Борис велел раздать хлеб и деньги из государственных запасов, но вышло еще хуже. В Москву за бесплатным питанием пришло громадное количество народа, добрая половина которого могла вполне прокормиться дома. Запасов не хватало... Начались эпидемии, да такие, что в одной Москве умерло больше 127 тысяч человек...» 1601-1602 гг.

Хронологическая последовательность: ?-?-? 3, 2, 1

Вопрос № 17 (4 балла)

Перед вами изображения произведений культуры XVII в. и XVIII в. Определите, какие памятники культуры, относятся к XVII в.



25

Вопрос №18 (12 баллов)

Заполните пустые ячейки таблицы, используя представленные в приведённом ниже списке

Представитель культуры	Произведение	Жанр
А)	«Домострой»	литература
Б)	В)	Книгопечатание
Г)	Д)	Архитектура
Е)	Царь-пушка	Литейное искусство

данные. Для каждой ячейки, обозначенной буквами, выберите номер нужного элемента.

- Элементы:
- 1.»Апостол» 2.И. Фёдоров 3.Ф.Конь 4.»Четьи-Минеи»
- 5.Смоленский Кремль 6. Митрополит Макарий 7. А.Чохов
- 8.Покровский собор в Москве 9.Сильвестр

ответ: 24 балла

История: *Алексей*
Алексей
Радко

В заданиях 1–3 выберите верные ответы. Ответы внесите в таблицу.

1. Какие из перечисленных дат связаны с разделами Речи Посполитой?

- 1) 1686 г. 2) 1725 г. 3) 1772 г. 4) 1783 г. 5) 1793 г.
6) 1795 г.

2. Какие из перечисленных понятий связаны с русско-турецкой войной 1877–1878 гг.?

- 1) «Азовское сидение» 4) «Плевненская эпопея»
2) «Битва трёх Мстиславов» 5) Аахенский конгресс
3) «Шипкинское сидение» 6) Берлинский конгресс

3. Какие из приведённых событий произошли в 1957 году?

- 1) запуск первого искусственного спутника Земли
2) ввод советских войск в Чехословакию
3) разгром «Антипартийной группы»
4) «дело врачей-вредителей»
5) введение совнархозов 6) возведение Берлинской стены

Ответы.

1	2	3
356	346	135

Максимум за задания 1–3 – 9 баллов.

4. Что с исторической точки зрения объединяет перечисленные в ряду элементы? Дайте максимально точный ответ.

4.1. Г.К. Жуков, Р.Я. Малиновский, Д.Ф. Устинов, Д.Т. Язов.

4.2. 1918 г., 1922 г., 1939 г. Ответ. 4.1. Министры обороны СССР

4.2. Даты договоров России/СССР с Германией

Максимум за задание – 4 балла.

5. Дайте краткое обоснование ряда (что объединяет перечисленные элементы с исторической точки зрения) и укажите, какой из элементов является лишним по данному основанию.

5.1. Госприёмка, ускорение, антиалкогольная кампания, либерализация цен.

5.2. Бой на реке Ялу, Мукденское сражение, битва при Кагуле, сражение при Ляояне.

Ответ

5.1. Эпоха перестройки

65.

5.2. Русско-японская война

Максимум за задание – 6 баллов.

6. Расположите в хронологической последовательности события.

- 1) издание указа об обязанных крестьянах
- 2) отмена крепостного права в Прибалтике
- 3) издание «манифеста о трёхдневной барщине»
- 4) создание Крестьянского поземельного банка
- 5) инвентарная реформа
- 6) издание указа о вольных хлебопашцах

65

Ответ.

3	6	2	1	5	4
---	---	---	---	---	---

Максимум за задание – 6 баллов.

7. Установите соответствие между годами и императорскими университетами, открытыми в эти годы. К каждой позиции первого столбца подберите соответствующую позицию из второго столбца.

Годы	Императорские университеты
А) 1755	1) Санкт-Петербургский университет
Б) 1804	2) Томский Университет
В) 1819	3) Казанский университет
Г) 1827	4) Московский университет
Д) 1888	5) Николаевский (Саратовский) университет
	6) Александровский (Гельсингфорский) университет

55.

Ответ.

А	Б	В	Г	Д
4	3	1	6	2

Максимум за задание – 5 баллов.

8. Внимательно рассмотрите схему и выполните задания.

Запишите в таблицу выбранные цифры под соответствующими буквами.

- 3) Союзником России в данной войне была Священная Римская империя.
- 4) Присоединение к России государства, обозначенного на схеме цифрой II, произошло в 1801 году.
- 5) На схеме указано название города – места сухопутного генерального сражения Северной войны.
- 6) Цифрой 2 на схеме обозначен город Азов.
- 7) Военная кампания, обозначенная на схеме, завершилась подписанием Абоского мира.

60.
 Ответ.

1	2	3	4	5	6	7
нет	да	да	нет	нет	да	нет

Максимум за задание – 12 баллов.

9. Перед вами отрывки из международных договоров России и СССР, заключённых с Японией. Определите, при каких правителях России/СССР были подписаны данные договоры. Ответы внесите в предложенную ниже таблицу. Впишите во второй столбец таблицы напротив названия договора буквенное обозначение его отрывка, в третьем укажите правителя России/СССР.

А) «Российское императорское правительство, признавая за Японией в Корее преобладающие интересы политические, военные и экономические, обязуется не вступаться и не препятствовать тем мерам руководства, покровительства и надзора, кои императорское японское правительство могло бы почтёбно и по необходимости принять в Корее. Российское императорское правительство уступает императорскому японскому правительству, с согласия китайского правительства, аренду Порт-Артура, Талиена и прилегающих территорий и территориальных вод».

Б) «Отныне границы между Россией и Японией будут проходить между островами Итурупом и Урупом. Весь остров Итуруп принадлежит Японии, а весь остров Уруп и прочие Курильские острова к северу составляют владение России. Что касается острова Крафто (Сахалина), то он остаётся неразделённым между Россией и Японией, как было до сего времени. <...> Как Русский в Японии, так и Японец в России всегда свободны и не подвергаются никаким стеснениям».

В) «Его Величество Император Всероссийский и Его Величество Император Японский, желая положить конец многочисленным неудобствам, проистекающим от совместного владения островом Сахалином, и упрочить существующее между Ними доброе согласие, постановили заключить трактат о взаимной уступке, со стороны Его Величества Императора Всероссийского группы Курильских островов, а со стороны Его



8.1. В какие годы шла изображённая на схеме военная кампания? Ответ.

1735-1739гг

8.2. Назовите крепость, обозначенную на схеме цифрой 1. Ответ.

Перекоп

8.3. Укажите российского монарха, в правление которого шла война, события которой обозначены на схеме. Ответ.

Анна Иоановна

8.4. Укажите современное название государства, обозначенного на схеме цифрой I. Ответ.

Турция

8.5. Укажите год окончания существования государства, обозначенного на схеме цифрой III. Ответ.

1795

8.6. Верны ли представленные ниже утверждения («да» – «нет»)? Ответы внесите в таблицу.

- 1) Представленные на схеме события происходили одновременно с созданием первого русского профессионального театра.
- 2) На схеме указана фамилия российского военачальника, участвовавшего в ноябре 1740 года в дворцовом перевороте.

125.

Величества Императора Японского Его прав на остров Сахалин (Крафто), и назначили на сей конец своими Уполномоченными, а именно...».

Г) «Состояние войны между Союзом Советских Социалистических Республик и Японией прекращается со дня вступления в силу настоящей между ними восстанавливаются мир и добрососедские дружественные отношения. <...> Союз Советских Социалистических Республик поддержит просьбу Японии о принятии её в члены Организации Объединённых Наций».


Ответ.




Договор	Отрывок (буква)	Правитель России/СССР
Симодский трактат	Б	Николай I
Петербургский договор	В	Александр II
Портсмутский договор	А	Николай II
Московская декларация	Г	Хрущев Н.С.

168-

Максимум за задание – 16 баллов.

10. В таблице помещены названия известных наступательных операций, осуществлённых Красной Армией в годы Великой Отечественной войны. Заполните таблицу, вписав в неё арабские цифры, которыми обозначены сроки проведения операций, буквенные обозначения основных целей каждой операции и римские цифры, которыми обозначены изображения, связанные с той или иной операцией.

Сроки проведения	Основная цель операции	Иллюстрации
1) август – сентябрь 1943 г.	А) Разгром фашистских войск под Сталинградом	I 

2) ноябрь 1942 г. – февраль 1943 г.	Б) Освобождение Белгорода и Харькова	II	
3) июнь – август 1944 г.	В) Дезорганизация перевозок в тылу врага	III	
4) август 1943 г.	Г) Освобождение Белоруссии	IV	

Ответ.

Название военных операций	Цифровое обозначение сроков проведения	Буквенное обозначение целей	Цифровое обозначение иллюстрации
«Багратион»			
«Рельсовая война»			
«Полководец Румянцев»			
«Уран»			

Максимум за задание – 12 баллов.

11. Вам предстоит работать с высказываниями историков и современников о событиях и деятелях отечественной истории. Выберите из них одно, которое станет темой вашего сочинения-эссе.

При написании работы исходите из того, что жюри, оценивая ваше эссе, будет руководствоваться следующими критериями.

1. Раскрытие смысла высказывания: постановка содержащейся в высказывании исторической проблемы.

2. Выражение своей точки зрения по сформулированной проблеме и её аргументация при помощи исторических знаний.
3. Творческий характер восприятия темы, её осмысления.
4. Знание различных точек зрения по раскрываемой проблеме.
5. Грамотность использования исторических фактов и терминов.
6. Наличие выводов по поставленной проблеме.

1. «На протяжении всего IX и первой половины X вв. шёл (и практически завершился) один и тот же процесс формирования... государственного начала Руси. Ни набеги мадьяр, ни наезды варягов или набеги печенегов не могли ни остановить, ни существенным образом видоизменить ход этого процесса»

(Б.А. Рыбаков).

2. «Весной 1611 г. стал ясным полный провал восточной политики Речи Посполитой в плане... подчинения Русского государства польско-литовскому политическому влиянию. Именно избранная поляками линия действий привела к тому, что русское общество сплотилось для борьбы с Речью Посполитой»

(Б.Н. Флоря).

3. «Вопрос о выборе между революционным и реформистским путями к достижению поставленных целей встаёт перед освободительным движением России с первых его шагов. Определённым разделом здесь стали 60–70-е гг. XIX века» (В.А. Дьяков).

4. «Планы Гитлера и перспективы успешного завершения войны Германией рухнули, видимо, в октябре 1941 года и, безусловно, с началом русского контрнаступления в битве за Москву в декабре 1941 года» (К. Рейнгардт).

5. «К середине 1980-х гг. безуспешность попыток улучшения экономики и технологическое отставание от Запада вызывали глубокое чувство озабоченности в руководстве Советского Союза и готовность на преобразования. Впервые реформы в России становились исторической необходимостью» (Д. Самтер).

Максимум за задание – 30 баллов.

Максимум за работу – 100 баллов.

Итого: 52 (баллов)

Председатель жюри:

Члены жюри:

